



Bilim, Teknoloji ve Toplum - 1

1. I. Toplumsal olaylar  
II. Toplumun yaşam biçimi  
III. İnsan vücudunun yapısı  
IV. Toplumlararası kültürel etkileşimler  
**verilenlerden hangileri sosyal bilimlerin inceleme alanına girmektedir?**

A) Yalnız II. B) I ve III.  
C) I ve IV. D) I, II ve IV.

2. Teknolojik alandaki gelişmeler insan hayatını kolaylaştırırken bazı durumlarda insan sağlığını olumsuz etkileyebilmektedir.

**Aşağıdakilerden hangisi bu duruma örnek olarak gösterilebilir?**

- A) Sanayileşme sonucu solunum sistemi hastalıklarının artması  
B) Sanayileşme sonucu insan gücünü aşan işlerin başarılabilmesi  
C) Ulaşımındaki gelişmeler sayesinde zaman kaybının aza indirilmesi  
D) Hızlı iletişim ve haberleşme sayesinde anında haber alınabilmesi

3. Bahriye Öğretmen, Sosyal Bilgiler dersinde "Eski Kültür ve Uygarlıkları" konusunu işlemiştir. Bu konuyla alakalı sınıfa eski uygarlıklardan kalan alet, malzeme, ev eşyası gibi maddi kalıntıları getirmiştir.

**Buna göre Bahriye Öğretmen hangi bilim dalının verilerinden yararlanmıştır?**

- A) Arkeoloji  
B) Ekonomi  
C) Coğrafya  
D) Hukuk

4. Teknoloji kullanımının sosyalleşme ve toplumsal ilişkiler üzerinde birçok olumlu etkisi vardır.

**Buna göre aşağıdakilerden hangisi bu olumlu etkilerden biri değildir?**

- A) Geniş insan kitlelerine daha kolay ulaşılması  
B) Duygu ve düşüncelerin paylaşımını kolaylaştırması  
C) Kolay bir şekilde bilgi alışverişi yapılması  
D) Daha güçlü insan ilişkilerinin kurulması

5. • Fransız bilim insanları ikiye kesilse bile kendini onarabilen bir materyal geliştirdiler.  
• Bilim insanları uzaktan bakıldığında sadece bir kağıt parçasına benzeyen bir pil geliştirdiler.  
• Bilim insanları tarafından karanlıkta yol gösteren halılar üretildi.

**Bu gelişmeler dikkate alındığında bilim ve teknolojinin getirdiği yeniliklerin insan hayatına katkıları arasında aşağıdakilerden hangisi yer almaz?**

- A) İnsan yaşamını kolaylaştırması  
B) Zamanın daha verimli kullanılmasını sağlaması  
C) İnsan ilişkilerinin zayıflaması  
D) Sağlık alanında gelişmelerle insan yaşamının uzaması

6. Dünyanın ve yaşamın insani ve toplumsal yönlerini inceleyen bilimlere sosyal bilimler adı verilmektedir. Sosyal bilimler insanların toplumsal ve kültürel olarak yapmış oldukları faaliyetleri inceler.

**Buna göre aşağıdakilerden hangisi sosyal bilim dallarından biri değildir?**

- A) Tarih B) Biyoloji  
C) Sosyoloji D) Coğrafya

Bilim, Teknoloji ve Toplum - 1

7.



Geçmişte yaşamış insanların günlük hayatta kullandıkları eşyaları ve yapı kalıntılarını araştırarak insan yaşantısı ile ilgili bilgilere ulaşmak istiyorum.

Yukarıda verilen öğrencinin çalışmayı istediği sosyal bilim dalı aşağıdakilerden hangisidir?

- A) Coğrafya  
B) Ekonomi  
C) Psikoloji  
D) Arkeoloji

8. Günümüzde insan hayatını kolaylaştıran birçok teknolojik gelişme yaşanmaktadır.

Aşağıdaki teknolojik gelişmelerden hangisinin gelecekte insan yaşamı daha az etkileyeceği söylenebilir?

- A) Bilgisayar  
B) Telgraf  
C) Cep telefonu  
D) Yapay zekâ

9.

Etrafımızda görmediğimiz ama sürekli nefes aldığımız bir hava var. Bu hava ısınmaya başladı. Havanın ısınmasıyla da, dünya ısınmaya başladı. Hasta olup da ateşimiz çıktığında kendimizi iyi hissetmeyiz, öyle değil mi? İşte dünya da şimdi kendisini iyi hissetmiyor. Hasta olup ateşimiz çıktığında buna sebep olan mikroplardan kurtulmaya çalışırız. Dünyanın da ısınmasına sebep olan nedenlerden kurtulup iyileşmesi gerekmektedir.

Metinde anlatılan durum aşağıdaki sosyal bilim dallarından hangisinin çalışma alanına girmektedir?

- A) Coğrafya  
B) Tarih  
C) Tıp  
D) Psikoloji

10. Bir tıp fakültesinde çalışan başhemşire "Stomakit" adlı bir ürün meydana getirmiştir.

Bulduğu ürünü koruması için hemşirenin yapması gereken aşağıdakilerden hangisidir?

- A) Kültür Bakanlığına başvurmalıdır.  
B) Ürünün patent hakkını almalıdır.  
C) Korsan olarak çoğaltmalıdır.  
D) Ürünün telif hakkını almalıdır.

11. Aşağıdakilerden hangisi korsan ürünlerle ilgilidir?

- A) Telif hakkı alınmış ürünlerdir.  
B) Üzerlerinde Kültür Bakanlığı bandrolü vardır.  
C) Ürünlerin vergisi devlete ödenmiştir.  
D) Başkalarının ürünlerini izni olmadan yasa dışı yollarla kopyalanmasıdır.


12. Ürünlere telif ve patent hakkının verilmesinin yararları arasında aşağıdakilerden hangisi yoktur?

- A) Ürün sahiplerinin emeğinin karşılığını alması  
B) Devletin vergi gelirlerinin zarara uğramaması  
C) Ürünlerin kullanım tarihlerinin kısıtlanması  
D) Yeni ürünlerin ortaya çıkması için teşvik edilmesi



### Bilim, Teknoloji ve Toplum - 2

1. Aşağıdaki görsellerden hangisi ürünlerin üzerindeki telif hakkı sembolüdür?



2. Gazi Mustafa Kemal yorulmaz bir okuyucu, büyük bir arayıcı, yüksek bir tenkitçi ve derin bir gözlemcidir.”

(Hasan Cemil Çambel )

Buna göre Atatürk ile ilgili aşağıdakilerden hangisi söylenemez?

- A) Araştırmacıdır.
- B) Okumayı sever.
- C) Bilgileri olduğu gibi kabul eder.
- D) Olayları iyi gözlemler.

3. Bir ürünün piyasaya korsan olarak çıkarılması aşağıdakilerden hangisine neden olur?

- A) Eser sahibinin emeğinin karşılığını alamamasına
- B) Sanat adamlarının çoğalmasına
- C) Yeni eserlerin teşvikine
- D) Devlete verilecek verginin artmasına

4. Atatürk, bilim ve teknolojinin toplumsal gelişim için önemli olduğunu vurgulamıştır. Bilimsel düşünme becerisinin halk içinde yayılması için çaba harcamış ve bu doğrultuda sosyal bilimler başta olmak üzere sağlık ve teknoloji alanlarında çeşitli kurumlar açtırmıştır.

Buna göre aşağıdakilerden hangisi Atatürk Dönemi'nde bu doğrultuda açılan kurumlardan biri değildir?

- A) Türk Tarih Kurumu
- B) Ankara Dil, Tarih Fakültesi
- C) Türk Dil Kurumu
- D) Teknoparklar

5. Ceren ve arkadaşları araştırma için kütüphaneye gitmişler burada ulaştıkları bilgileri not almış, yaptıkları alıntılarını tırnak ( " " ) içinde kullanmışlar ve notların altına da konunun adı, yazarın adı, kitabın adı, cilt ve sayfa numaraları ve basım yılını yazmışlardır.

Buna göre Ceren ve arkadaşları aşağıdakilerden hangisine dikkat etmişlerdir?

- A) İnsan Hakları Sözleşmesine
- B) Telif ve Patent Hakkına
- C) Düşünce ve Hürriyet Hakkına
- D) Basın Hakkına

6. • Bilim ve sanat dallarında ortaya çıkan yeni kavramların Türkçe karşılıklarını bulmaktır.  
• Türkçe'yi yabancı kelimelerin boyunduruğundan kurtarmaktır.

Sözü edilen amaçları gerçekleştirmek için Atatürk tarafından kurulan kurum aşağıdakilerden hangisidir?

- A) Türk Tarih Kurumu
- B) Dil ve Tarih-Coğrafya Fakültesi
- C) Türk Dil Kurumu
- D) Maden Tetkik Arama

Bilim, Teknoloji ve Toplum - 2

7. Sosyal bilimler, toplum olaylarını, insanın sosyal ve kültürel faaliyetleri konusunda araştırma ve inceleme yapan bilim dallarını kapsar. Her sosyal bilim dalı insan yaşamının farklı bir alanını inceler.

**Buna göre aşağıdaki bilim dallarından hangisi sosyal bilimler arasında sayılır?**

- A) Matematik  
B) Fizik  
C) Kimya  
D) Tarih

8. Bir bilim insanı araştırma basamaklarını kullanarak bir araştırma yapacaktır. Bu doğrultuda çalışmalara başlamış fakat planlanan araştırmanın aşamalarının hangi tarihler arasında tamamlanacağını belirleyememiştir.

**Buna göre araştırma basamaklarından hangisinde sıkıntı yaşamıştır?**

- A) İlgi ve yeteneğe göre konuyu belirlemesi  
B) Problemin ortaya konması  
C) Sürenin belirlenmesi  
D) Mevcut bilgi birikimini derlemesi

9.

Dünyada her şey için; uygarlık için, hayat için, başarı için en hakiki mürşit ilimdir; fendir.

Mustafa Kemal ATATÜRK

**Bu sözle Atatürk aşağıdakilerden hangisinin önemini vurgulamıştır?**

- A) Sporun  
B) Siyasetin  
C) Bilimin  
D) Ordunun

10. Son yıllarda bilim ve teknoloji alanında meydana gelen devrimsel gelişmeler her alanda olduğu gibi tıp alanında da kendini göstermiştir. Böylece birçok amansız hastalık karşısında ümit veren gelişmeler yaşanmıştır.

**Buna göre tıp alanında meydana gelen teknolojik gelişmelerle, aşağıdakilerden hangisinin gerçekleşmesi beklenmez?**

- A) Hastanelere ihtiyacın kalmaması  
B) Yapay kalp nakli yapılması  
C) Kanserin tedavi edilmesi  
D) İnsan ömrünün uzaması

11. Amerika'da bir üniversite öğrencisi internette müzik dosyası indirdiği ve bunu paylaştığı için dört plak şirketine 675 bin dolar ödemeye mahkûm edildi.

**Buna göre üniversite öğrencisi hangi hakkı ihlal ettiği için ceza ödemek zorunda kalmıştır?**

- A) İnsan haklarını  
B) Telif ve patent hakkını  
C) Haberleşme hakkını  
D) Fikir hürriyeti hakkını

12. Aşağıda verilen tıp alanındaki gelişmelerden hangisinin toplumsal dayanışmaya katkı sağladığı söylenebilir?

- A) Açık kalp ameliyatlarının yapılması  
B) Kan bağıışı kampanyasının düzenlenmesi  
C) Lazer ile gözlük kullanımının azalması  
D) Şeker hastaları için insülin üretilmesi



Üretim, Dağıtım ve Tüketim - 1

1. Türkiye’de ormancılık faaliyetlerinin çoğunlukla kıyı bölgelerde yapılmasının temel nedeni aşağıdakilerden hangisidir?

- A) Kıyı bölgelerde sanayi faaliyetlerinin gelişmesi
- B) Kıyı bölgelerde nem ve yağış miktarının fazla olması
- C) Kıyı bölgelerde yaşayan insanların temel ekonomik faaliyet olarak ormancılığı kabul etmesi
- D) Kıyı bölgelerde turizm faaliyetlerinin yaygın bir şekilde yapılması

2. Yer şekilleri ve iklim özellikleri sebebiyle Doğu Anadolu Bölgesi’nde tarımsal üretim azdır. Bunun yerine insanlar genellikle büyükbaş hayvancılık yapmaktadırlar.

**Buna göre Doğu Anadolu Bölgesi’nde aşağıda verilen sanayi dallarından hangisi daha gelişmiştir?**

- A) Otomotiv
- B) Konserve
- C) Meyve suyu
- D) Et ve süt ürünleri

3. Bir iş adamı olan Ali Bey, Konya’da un fabrikası kurmaya karar verir.

**Ali Bey’in un fabrikası kurmak için Konya’yı tercih etmesinin temel nedeni aşağıdakilerden hangisidir?**

- A) Hammadde yönünden zengin olması
- B) Ulaşım imkanlarının gelişmiş olması
- C) Nitelikli insan gücünün var olması
- D) Pazarlama imkânlarının uygun olması

4. “Yaşadığım şehirde ormanlar geniş yer tutuyor. Arazilerimiz çok geniş ve verimlidir. Ayrıca deniz kenarında bulunan şehrimizin iklimi ılıman, yazları sıcak ve uzun geçer.”

**Bu bilgiler doğrultusunda bu şehir ile ilgili aşağıdaki yorumlardan hangisi yapılamaz?**

- A) Ormancılık faaliyetlerine uygundur.
- B) Deniz turizmi yapılabilir.
- C) Tarımsal üretim yapılır.
- D) Maden üretimi fazladır.

5. Enerji kaynaklarından bir kısmının doğada varlığı sona ermez. Bu kaynaklara yenilebilir enerji kaynakları denir.

**Buna göre aşağıdakilerden hangisi yenilenebilir bir enerji kaynağı değildir?**

- A) Rüzgar
- B) Biyoenerji
- C) Jeotermal
- D) Doğalgaz

6. Su gücüyle üretilen elektrik enerjisine hidroelektrik enerji denir. Hidro enerji, işleyiş olarak öncelikle büyük miktarlardaki suyun belirlenmiş bir yükseklikten salıverilmesiyle oluşan enerjinin türbin kullanılarak mekanik enerjiye dönüştürülmesi esasına dayanır.

**Buna göre aşağıdaki bölgelerden hangisinin akarsuları hidroelektrik santral kurmak için daha uygundur?**

- A) İç Anadolu Bölgesi
- B) Doğu Anadolu Bölgesi
- C) Ege Bölgesi
- D) Marmara Bölgesi



Üretim, Dağıtım ve Tüketim - 1

7. Hızlı koşamayan birinin atlet olmasını bekleyemeyiz. Fen bilimleri dersini sevmeyen birinin biyolog olması ise çok kolay olmaz.

**Bu bilgiye göre meslek seçiminde;**

- I. İlgî,  
II. Yetenek,  
III. Çevre

**unsurlarından hangilerinin etkili olduğu söylenebilir?**

- A) Yalnız I. B) Yalnız II.  
C) I ve II. D) I, II ve III.

8. Ülkemizin tuz ihtiyacının önemli bir kısmının sağlandığı Tuz Gölü'nde, gölü besleyen derelerin suyuna karışan atıklar ve kirli sular nedeni ile yapısal bozukluklarla karşılaşmaktadır. Gölü besleyen derelerin ve yer altı sularının sulama amacı ile kullanılması sonucu göl kurumaya başlayarak zamanla küçülmüştür.


**Metne göre Tuz Gölü ile ilgili aşağıdakilerden hangisi söylenemez?**

- A) Ülkemizin önemli tuz kaynaklarından biridir.  
B) Zamanla kuruyarak küçülmeye başlamıştır.  
C) Türkiye'nin en büyük ikinci gölüdür.  
D) Bilinçsiz uygulamalar yüzünden göl kurumaya yüz tutmuştur.

9. Aşağıdaki ekonomik faaliyetlerden hangisinin küresel ısınma üzerindeki etkisi daha fazladır?



Tarım



Sanayi



Madencilik



Turizm

10. Hayat kaynaklarımızdan biri olan toprak; tarım ve hayvancılık faaliyetlerinin vazgeçilmez kaynaklarından biri olduğu gibi, sanayide de ham madde olarak kullanılmaktadır.

**Aşağıdakilerden hangisinin üretiminde toprak ham madde olarak kullanılmaz?**

- A) Mobilya B) Çimento  
C) Fayans D) Kiremit

11. • Erozyon,  
• Küresel Isınma,  
• Hava kirliliği

**gibi çevre sorunlarının sebepleri aşağıdakilerden hangisi olamaz?**

- A) Ormanların tahrip edilmesi  
B) Sanayi tesislerinin denetlenmemesi  
C) Yer kabuğunu oluşturan levhaların hareketleri  
D) Yenilenemeyen enerji kaynaklarının bilinçsizce tüketilmesi

12. Nüfus artışı ile birlikte kişi başına düşen temiz su ihtiyacı artmaktadır. Bu nedenle temiz su tüketirken dikkat edilmesi, su olabildiğince tasarruflu kullanılmalıdır.

**Buna göre aşağıdakilerden hangisi su kaynaklarında tasarruf tedbirlerinden biri değildir?**

- A) Bulaşıkları elde yıkamak  
B) Evdeki bozuk muslukları tamir etmek  
C) Tıraş olurken, diş fırçalarken muslukları kapatmak  
D) Çamaşır makinesini tam doldurmadan çalıştırmamak



Üretim, Dağıtım ve Tüketim - 2

1. Türkiye toprak tipleri, tarım ürünleri ve bitki örtüsü çeşitliliği açısından oldukça zengindir.

**Bu durumun temel sebebi aşağıdakilerden hangisidir?**

- A) Farklı iklim tiplerinin görülmesi  
B) Yağış miktarının fazla olması  
C) Yıllık sıcaklık farklarının az olması  
D) Arazinin engebeli olması

2. Dünyanın en hızlı akan nehirlerinden biri olan Çoruh Nehri'nde rafting ve kano gibi su sporlarının yapılabilmesinin temel nedeni nedir?

- A) Akarsu yatağının geniş olması  
B) Akarsu eğiminin fazla olması  
C) Taşıdığı su miktarının çok olması  
D) Kar erimeleriyle beslenmesi

3.

- Geleceğin petrolü olarak adlandırılmaktadır.
- Dünya'da var olan rezerv miktarının %65'i Türkiye'de bulunmaktadır.
- Kullanım alanı çok geniştir.
- Jet ve roket yakıtlarının yanında, kimya sanayisi, teknolojik araç ve gereçler ile kâğıt sanayisinde kullanılmaktadır.
- Ülkemizde Balıkesir ve Kütahya'da çıkarılmaktadır.







**Öğretmen Dilek Hanım'ın özelliklerini belirttiği maden aşağıdakilerden hangisidir?**

- A) Toryum  
B) Kömür  
C) Altın  
D) Bor

4. Dört buçuk milyar yaşında olan Dünyamızda, geçmiş dönemlerden günümüze kadar fosil yakıtların kullanılması sonucu ortaya çıkan karbon gazı gibi zararlı gazların küresel ısınma, hava kirliliği ve çevre kirliliği gibi sorunlara neden olması sonucu günümüzde yeni enerji kaynaklarının kullanılması gündeme gelmiş buna bağlı olarak alternatif enerji kaynakları kullanılmaya başlanmıştır.

**Aşağıdakilerden hangisi yukarıdaki metinde sözü edilen yeni enerji kaynaklarından biri değildir?**

- A)  Rüzgâr enerjisi  
B)  Güneş enerjisi  
C)  Petrol  
D)  Dalga enerjisi

5. Büyükbaş hayvancılığın yoğun olarak yapıldığı bir bölgede aşağıdaki üretim kollarından hangisine yönelik bir fabrikanın kurulması yatırım açısından isabetli olmaz?

- A) Et ve süt işleme tesisleri  
B) Pamuklu dokuma fabrikaları  
C) Deri giyim fabrikası  
D) Hayvansal gıda tesisleri

6. Nitelikli eleman; iyi eğitim almış, kendini yetiştirmiş, alanında uzman olmuş, zihin gücüne dayalı işlerde çalışanlara denir.

**Buna göre aşağıdakilerden hangisi nitelikli insanın özelliklerinden değildir?**

- A) İşini iyi bir şekilde yapar.  
B) Ülke ekonomisinin gelişmesine katkı sağlar.  
C) Yeniliklere ve gelişmelere açıktır.  
D) Enerji ve zamanı abartılı kullanır.

Üretim, Dağıtım ve Tüketim - 2

7. Meslek seçimi ile ilgili aşağıdakilerden hangisi doğru değildir?

- A) Mesleğimizi seçerken ailemizin sözünün dışına çıkmamalıyız.
- B) İlgi, yetenek ve becerilerimize uygun meslekler seçmeliyiz.
- C) Seçmiş olduğumuz mesleğe yönelik iyi bir eğitim almıyoruz.
- D) Hem kendimizi hem de seçeceğimiz mesleğin özelliklerini iyi tanınmalıyız.

8. Vergi, devlet tarafından yapılan kamu hizmetlerinin maliyetlerini karşılamak amacıyla devlete kaynak oluşturması için alınan paradır. Vergilerin kimlerden ve ne kadar alınacağı kanunla belirlenir. Bir iş adamının, asgari ücretli bir işçinin veya bir kamu personelinin kazancı aynı olmayacağından devlete ödemeleri gereken vergiler ve miktarları da farklı olacaktır.

Buna göre aşağıdakilerden hangisi yanlıştır?

- A) Vergilerden elde edilen kazanç toplum yararı için kullanılır.
- B) Vergi vermek devlet hizmetleri ve ülke menfaatleri için çok önemlidir.
- C) Vergi belirli kurallara göre alınır.
- D) Herkesin ödediği vergi miktarı aynıdır.

9. Aşağıda ülkemizde tarımsal hammaddeye dayalı yapılabilecek yatırımlar verilmiştir. Bu yatırımlardan hangisi yapıldığı bölge ile yanlış eşleştirilmiştir?

- A) Adana - Tekstil fabrikası
- B) Diyarbakır - Çay fabrikası
- C) Aydın - Zeytinyağı fabrikası
- D) Konya - Şeker fabrikası

10. I. Vergi vermek vatandaşlık borcudur.  
II. Vergiler yasalarla belirlenir, değiştirilir ve kaldırılabilir.  
III. Kişilerin isteğine bağlı olarak alınır.

Vergi ile ilgili olarak yukarıda verilen bilgilerden hangisi doğrudur?

- A) Yalnız I.
- B) Yalnız III.
- C) I ve II.
- D) I, II ve III.

11. On bin yıllık bir kültür birikimine sahip Batman'da petrol yataklarının keşfedilmesi ve sonrasında kurulan petrol sanayi tesislerine paralel olarak artan yatırımlar insanların buraya göç etmesine neden olmuştur. Batman'a yapılan bu göç, beraberinde farklı ve zengin bir kültürü de getirmiştir. Güneydoğu Anadolu Bölgesi'nin tipik bir kenti olan Batman ve Batman'a bağlı yerleşim alanlarında görülmesi gereken çok sayıda tarihî ve turistik alanlarda vardır.

Metne göre Batman ilinin gelişmesinde ve göç almasında etkili olan en önemli faktör aşağıdakilerden hangisidir?

- A) Köklü bir kültür birikimine sahip olması
- B) Önemli bir yer altı kaynağının keşfedilmesi
- C) Zengin bir tarihi mirasa sahip olması
- D) Güneydoğu Anadolu Bölgesi'nde bulunması

12. Aşağıdaki verilen ekonomik faaliyetlerin yoğun olarak yapıldığı bölgeler, hangi seçenekte doğru eşleştirilmiştir?

	Sanayi	Turizm	Ormanlık
A)	Marmara	Akdeniz	Karadeniz
B)	Karadeniz	Akdeniz	Marmara
C)	İç Anadolu	Karadeniz	Akdeniz
D)	Akdeniz	Marmara	Karadeniz





### Üretim, Dağıtım ve Tüketim - 3

1. Aşağıdakilerden hangisi ormanları korumak için alınması gereken tedbirlerinden biri değildir?

- A) Orman içi yangına müdahale yollarını açmak
- B) Ormanlar içindeki mesire alanlarını genişletmek
- C) Kaçak ağaç kesimi yapanlara ağır cezalar getirmek
- D) Yangınlarda yok olan ağaçların yerine yenilerini dikmek

2. Bir ülkede vergi gelirlerinin artması;

- I. sağlık hizmetleri,
- II. ekonomik büyüme,
- III. devlet yatırımları,

alanlarından hangilerini olumlu etkiler?

- A) I ve II.
- B) I ve III.
- C) II ve III.
- D) I, II ve III.

3. I. İlgi  
II. Yetenek  
III. Beceri

Meslek seçiminde yukarıda verilenlerden hangileri dikkate alınmalıdır?

- A) I ve II.
- B) I ve III.
- C) II ve III.
- D) I, II ve III.

4. Doğal kaynakların bilinçsizce tüketilmesi, aşırı avlanma, ormanların tahrip edilmesi, aşırı otlatma, sanayi tesislerinin denetlenmesi ve plansız kentleşme gibi etmenler doğal kaynakların yok olmasına sebep olmaktadır.

Bu durum aşağıdakilerden hangi soruna yol açmaz?

- A) Deprem
- B) Kuraklık
- C) Hava kirliliği
- D) Gıda yetersizliği

5.



Öğretmen Zeynep Hanım dersinde "Dünya Alarm Veriyor" konusunu işlerken tahtaya EROZYON kelimesini yazarak öğrencilerine "erozyonun sonuçları nelerdir?" sorusunu sormuştur.

Buna göre, aşağıda verilen öğrenci cevaplarından hangisi yanlıştır?

A)



Ahmet

Toprağın verimli olan üst tabakasını aşındırdığı için tarımsal üretimi olumsuz etkilemektedir.

B)



Ayşe

Taşınan toprak barajlara dolduğu için barajların kullanım ömrü kısalmaktadır.

C)



Fatih

Toprak aşındığı için bitki örtüsü daha gür çıkar.

D)



Gamze

Otlaklar zarar gördüğü için hayvancılık faaliyetlerini olumsuz yönde etkilemektedir.

Üretim, Dağıtım ve Tüketim - 3

6. GAP projesi ile meydana gelen değişimler aşağıda verilmiştir:

- Şanlıurfa, kısa zamanda pamuk üretiminde ülke birincisi olmuştur.
- Proje ile yapılan barajlardan 7'si Türkiye'nin elektrik ihtiyacının üçte birini karşılamıştır.
- Bölgenin tarihi ve doğal güzelliklerinin fark edilmesini sağlamıştır.

Buna göre GAP projesinin etkisiyle gelişme gösteren ekonomik faaliyet türleri aşağıdakilerin hangisinde sırasıyla verilmiştir?

	I	II	III
A)	Tarım	Ulaşım	Enerji
B)	Sanayi	Enerji	Turizm
C)	Tarım	Enerji	Turizm
D)	Ulaşım	Sanayi	Eğitim

7. Devletin sağlık, güvenlik ve adalet gibi temel hizmetleri yerine getirmek için yaptığı harcamaların önemli bir kaynağı, topladığı vergilerdir.

Aşağıdakilerden hangisi devletin topladığı vergilerle yapılan hizmetler arasında değildir?

- Baraj yapılması
- Yolların yapılması
- Limanların yapılması
- Özel hastanelerin açılması

8.

"Milli eğitim programımızın temel taşı, cahilliğin yok edilmesidir. Cahillik yok edilmedikçe yerimizdeyiz. Yerinde duran bir şey ise geriye gidiyor demektir. Bir taraftan genel olan cahilliği yok etmeye çalışmakla beraber, diğer taraftan toplumsal hayatta bizzat faal ve faydalı, verimli elemanlar yetiştirmek lazımdır. Bu da ilk ve orta öğretimin uygulamalı bir şekilde olmasıyla mümkündür."

Mustafa Kemal Atatürk

Atatürk'ün, yukarıda verilen sözünde aşağıdaki insan özelliklerinden hangisi üzerinde durulmuştur?

- Gözlemci
- Nitelikli
- Hoşgörülü
- Demokratik

9.



Buse

- Müzik alanına ilğim ve yeteneğim var.
- Seslerin inceliklerini algılayabiliyorum.
- Müzik aleti kullanabiliyorum.
- Sesimi iyi bir şekilde kullanabiliyorum.

Buse'nin özellikleri dikkate alındığında, aşağıdaki mesleklerden hangisini seçmesi daha uygun olur?

- Mühendis
- Ressam
- Müziyen
- Diş hekimi

10.

"....., devletin millet ve ülkeye karşı yerine getirmeye mecbur olduğu görevlerini yapabilmesi için gereken giderlere bireyin katılma payıdır."

Mustafa Kemal Atatürk

Yukarıdaki cümlede, yer alan boşluk aşağıdakilerden hangisi ile doldurulmalıdır?

- Vergi
- Adalet
- Eğitim
- Askerlik

11. İnsanlar ihtiyaçlarını genellikle doğal kaynaklardan karşılar. Bitmeyecekmiş gibi görünen bu kaynaklar, insanların bilinçsizce kullanımı sonucu büyük zarar görmektedir.

Yukarıdaki bilgiye göre aşağıdaki doğal kaynaklardan hangisinin bu durumdan daha az zarar gördüğü söylenebilir?

- Ormanlar
- Güneş enerjisi
- Verimli araziler
- Doğal su kaynakları

12. Tarım ürünleri kimi zaman gıda, kimi zaman sanayide ham madde olarak kullanılmaktadır.

Dokuma sanayisinde ham madde olarak kullanılan tarım ürünü aşağıdakilerden hangisidir?

- Çay
- Mısır
- Pamuk
- Ayçiçeği

